



5	9	4
4	-3	7
7	-3	?

从所给的四个选项中，选择最合适的一个填入“？”处，使图中的数字呈现一定的规律性

正确答案: B 你的答案: 空 (错误)

- 5
- 10
- 2
- 8

12	15	3
21	49	7
24	16	?

从所给的四个选项中，选择最合适的一个填入“？”处，使图中的数字呈现一定的规律性

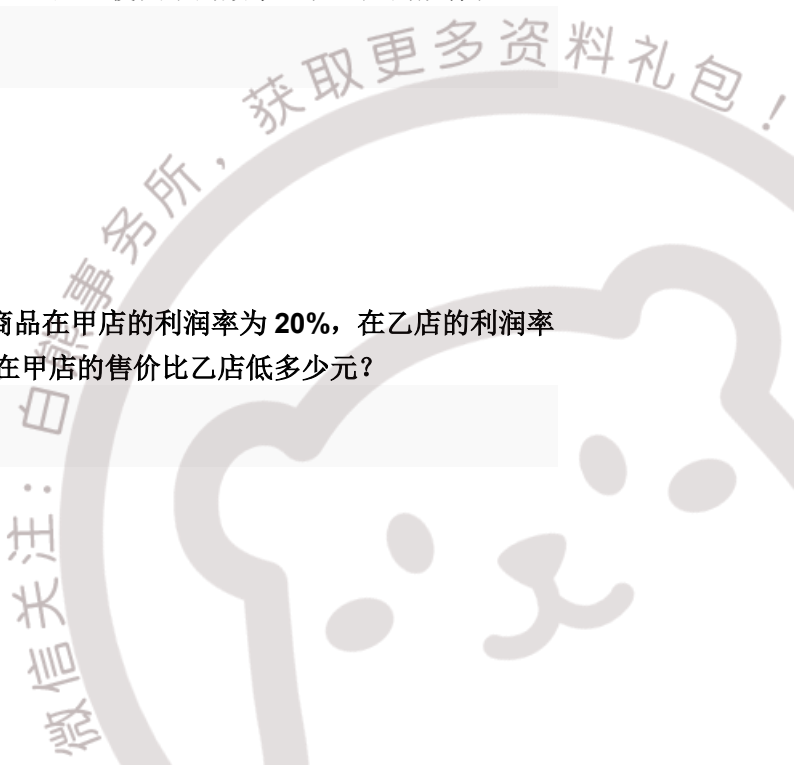
正确答案: A 你的答案: 空 (错误)

- 8
- 12
- 9
- 4

某件商品，甲店的进货价是乙店的 90%。该商品在甲店的利润率为 20%，在乙店的利润率为 10%。若乙店进货价为 200 元，则该商品在甲店的售价比乙店低多少元？

正确答案: C 你的答案: 空 (错误)

- 2
- 3





4  
5

1	9	3
2	8	4
5	5	?

从所给的四个选项中，选择最合适的一个填入“？”处，使图中的数字呈现一定的规律性：

正确答案: A 你的答案: 空 (错误)

5  
7  
9  
3

小张读一本书，如果每天分别读 2 页、3 页、4 页和 5 页时，最后一天都只能读 1 页；当每天读 7 页时，则最后一天刚好读 7 页。已知此书不足 400 页，那么此书共有多少页？

正确答案: D 你的答案: 空 (错误)

121  
181  
241  
301

16	4	?
25	25	2
30	15	3

从所给的四个选项中，选择最合适的一个填入“？”处，使图中的数字呈现一定的规律性





正确答案: A 你的答案: 空 (错误)

- 5
- 2
- 3
- 6

7	15	11
11	23	17
5	11	?

从所给的四个选项中，选择最合适的一个填入“？”处，使图中的数字呈现一定的规律性

正确答案: B 你的答案: 空 (错误)

- 6
- 8
- 12
- 16

已知每个城市的用水需求相同，每月水库的进水速率恒定不变。现有一座水库供水，如果供应 10 个城市的话，一个月水库就会枯竭；如果供应 8 个城市的话，一个半月水库就会枯竭。当前城市化进程不断加快，新的城市不断产生，为了能够持续满足 12 个城市的供水，还至少需要建设几个这样的水库？

正确答案: A 你的答案: 空 (错误)

- 2
- 3
- 4
- 5





6	66	22
7	42	12
10	65	?

从所给的四个选项中，选择最合适的一个填入“？”处，使图中的数字呈现一定的规律性：

正确答案: D 你的答案: 空 (错误)

55

48

34

13

轮滑障碍赛中，共 8 个障碍物，选手需绕过障碍物滑行抵达终点。若比赛规定每次可以绕过一个或两个障碍物，选手从障碍物的右侧出发，共有多少种不同滑法？

正确答案: B 你的答案: 空 (错误)

25

34

89

144

甲、乙和丙，一位是福建人，一位是河北人，一位是湖南人。现在只知道：丙比湖南人的年龄大，甲和河北人不同岁，河北人比乙年龄小。由此可以推出：

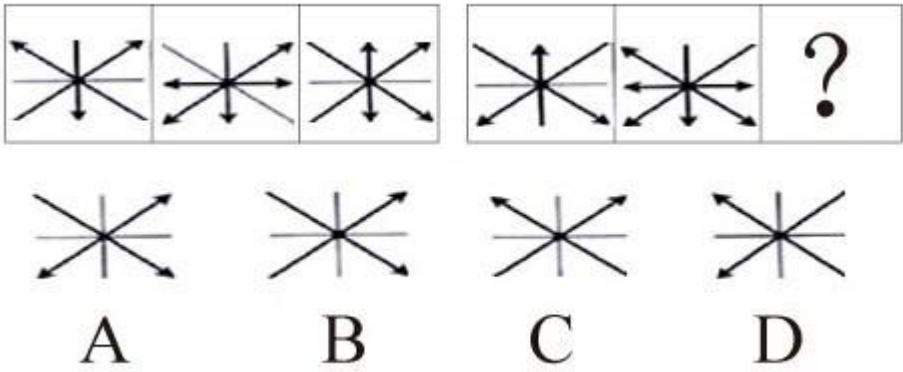
正确答案: D 你的答案: 空 (错误)

甲不是湖南人

河北人比甲年龄小

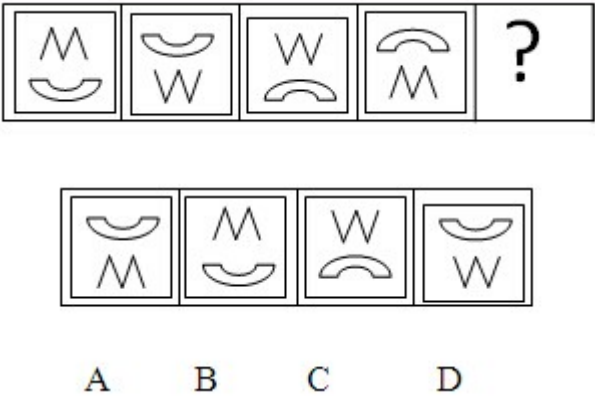
河北人比福建人年龄大

湖南人年龄最小



从所给的四个选项中，选择最合适的一个填入“？”处，使之呈现一定的规律性  
正确答案: A 你的答案: 空 (错误)

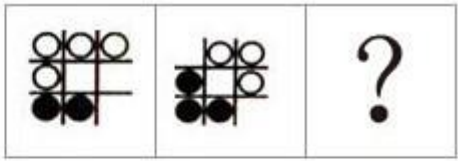
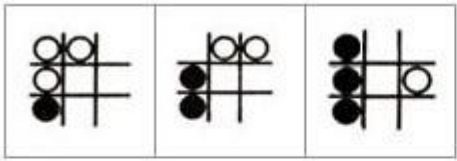
- A
- B
- C
- D



从所给的四个选项中，选择最合适的一个填入“？”处，使之呈现一定的规律性  
正确答案: B 你的答案: 空 (错误)

- A
- B
- C
- D

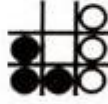




A



B



C



D

从所给的四个选项中，选择最合适的一个填入“？”处，使之呈现一定的规律性

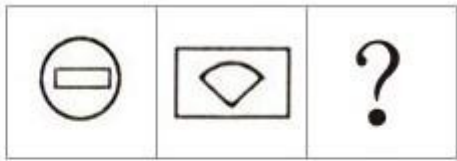
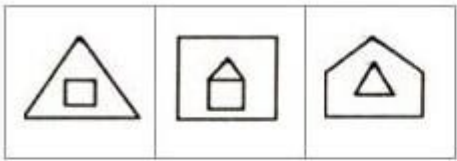
正确答案: B 你的答案: 空 (错误)

A

B

C


D



A



B



C



D

从所给的四个选项中，选择最合适的一个填入“？”处，使之呈现一定的规律性

正确答案: A 你的答案: 空 (错误)

A

B

C

D

